

Fiche d'activité

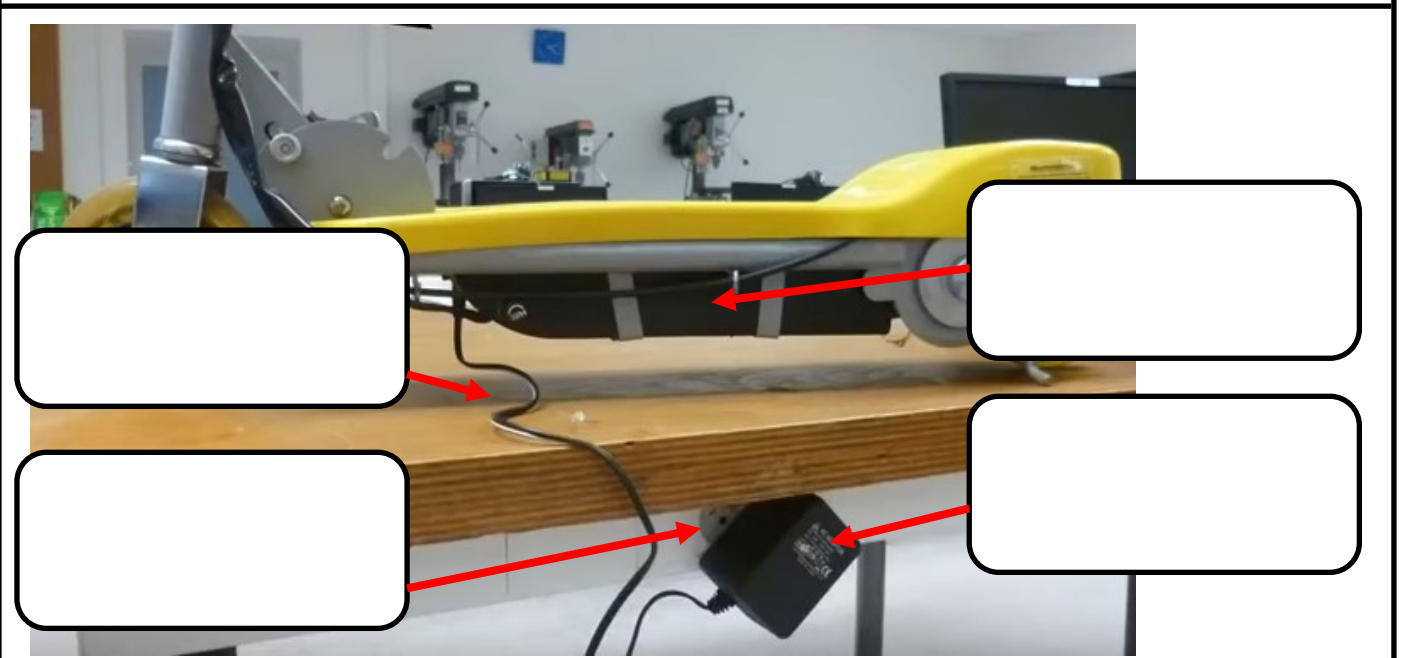
La chaîne d'énergie

Consignes : en utilisant la trottinette présente en classe, complétez les documents ci-dessous.


Quelle énergie permet à la trottinette de fonctionner ?

Quel est le résultat de l'utilisation de cette énergie sur le fonctionnement de la trottinette ?

Complétez les bulles en indiquant le nom et le rôle de chacun des éléments.



Quelle est la fonction commune à chacun de ces éléments (à quoi servent-ils) ?




Quelle est la fonction commune à chacun de ces éléments (à quoi servent-ils) ?

Fiche d'activité

La chaîne d'énergie



Quelle est la fonction de cet élément (à quoi sert-il) ?



Quelle est la fonction commune à chacun de ces éléments (à quoi servent-ils) ?

Bilan de l'activité : les étapes et éléments de la chaîne d'énergie de la trottinette

